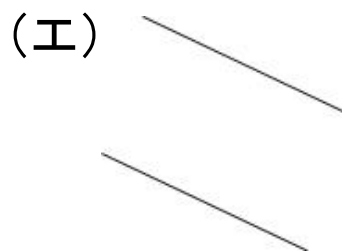
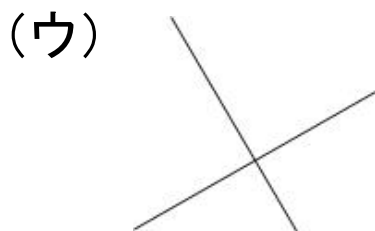
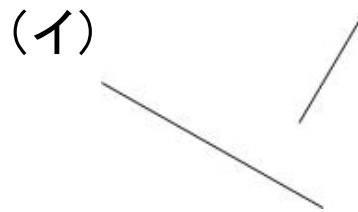
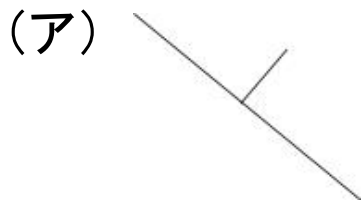


## 5年 組 名前

(1) 下の図で垂直になっているのはどれですか。  
(三角じょうぎで調べよう。)



答え

(2) 2まいの三角じょうぎを使って、点アを通過して、  
(イ)の直線に垂直な直線をひきましょう。

ア  
・

(イ)