




ベーシック問題！3年生 ONE

小学校 年 組 氏名

47問中









- 1 つぎのもんだいに、答えましょう。
- (1) 10が6こあつまった数は (2) 60が あつまった数は600
- (3) 9999のつぎの数は (4) 100のまえの数は
- (5) 18このおはじきを、くふうしてならべると ×

- 2 つぎの計算をしましょう。
- (1) $12+9=$ (2) $28+31=$
- (3) $46+24=$ (4) $55+28=$
- (5) $39+15=$ (6) $100+9=$


- 3  の数が、大きくなるようにします。
□にあてはまる数字を、ぜんぶ、○でかこみましょう。
- (1) 6 8 7 3 □ 8 7 3  (1、2、3、4、5、6、7、8、9)
- (2)  8 4 6 2 8 4 □ 2 (1、2、3、4、5、6、7、8、9)


4 下のひょうは、九九のひょうのいちぶです。□にあてはまる数を書きましょう。


<input type="text"/>	のだん	6	12	<input type="text"/>	24	<input type="text"/>	<input type="text"/>	42	48
	7 のだん	<input type="text"/>	14	21	<input type="text"/>	35	<input type="text"/>	49	<input type="text"/>


- 5 かかれている数は、何でしょうか。同じ絵には、同じ数が入ります。
- $4 \times$  $= 28$  \times  $= 56$  \times  $= 48$
-  は  は  は


6 計算をして、答えが同じになる計算を線でむすびましょう。


 $3 \times 10 =$

$10 \times 9 =$ 

 $9 \times 10 =$

$5 \times 10 =$ 

 $10 \times 5 =$

$10 \times 3 =$ 

何を食べたかな？

- 7 □にあてはまる数を書きましょう。
- (1) $(2 \times 2) \times 4 = 2 \times (\text{□} \times 4)$ (2) $6 \times (3 \times 2) =$
- (3) $(5 \times 2) \times 3 = 5 \times (2 \times \text{□})$ (4) $(4 \times 2) \times 9 =$

- 8 つぎの計算をしましょう。
- (1) $27 \div 9 =$ (2) $36 \div$ $= 9$ (3) $21 \div 3 =$
- (4) $6 \div 1 =$ (5) $0 \div 4 =$ (6) $48 \div 6 =$

9 つぎの計算を筆算でしましょう。

(1) $641+834$ (2) $324+497$ (3) $986+45$

