

2年数学 チャレンジプリント

19 三角形(2)

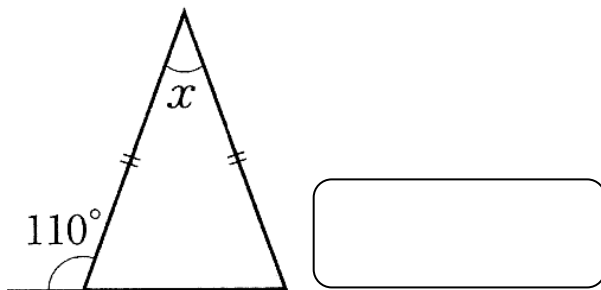
実施日 _____ 月 _____ 日

組 氏名 _____

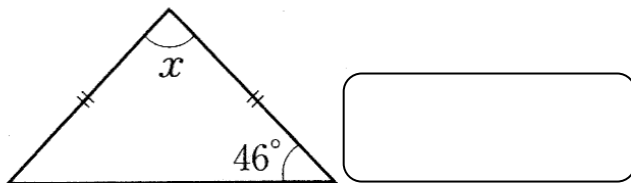
1 二等辺三角形

下のそれぞれの図で、同じ印をつけた辺は等しいとして、 $\angle x$ の大きさを求めましょう。

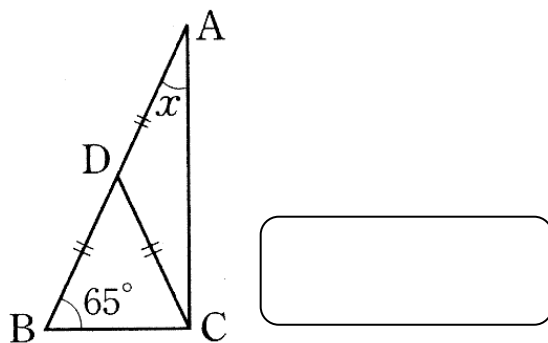
①



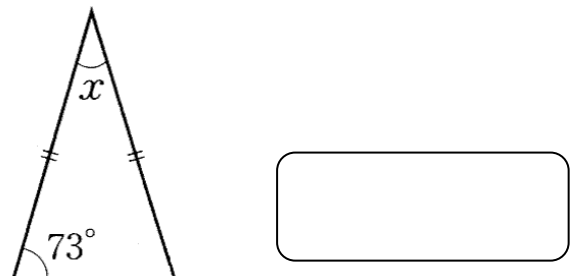
②



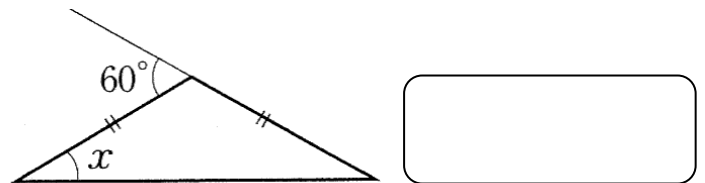
③



④



⑤



⑥

