

# 1年数学 チャレンジプリント

## 18 三角形(1)

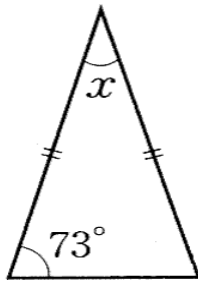
実施日 \_\_\_\_\_ 月 \_\_\_\_\_ 日

組 氏名 \_\_\_\_\_

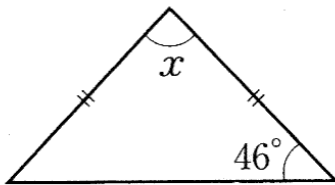
### 1 二等辺三角形

下のそれぞれの図で、同じ印をつけた辺は等しいとして、 $\angle x$ の大きさを求めましょう。

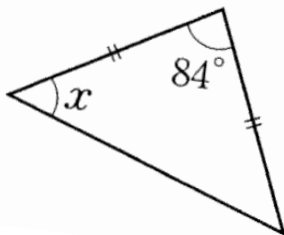
①



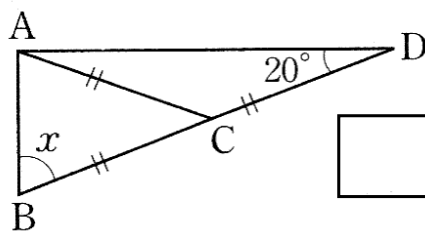
②



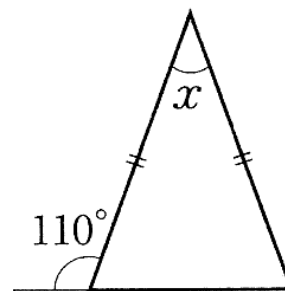
③



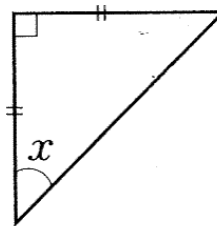
④



⑤



⑥



⑦

