

2年数学 チャレンジプリント

5

13 一次関数のグラフ(2)

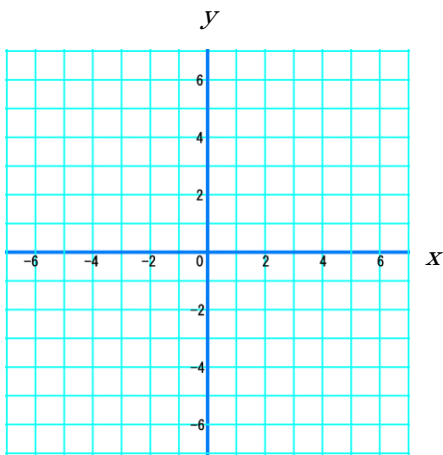
実施日 _____ 月 _____ 日

組 氏名 _____

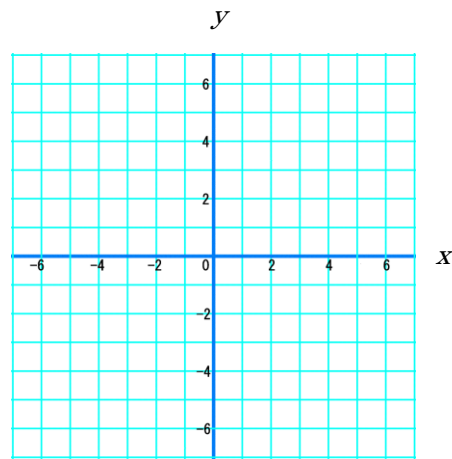
1 一次関数のグラフ

次の一次関数のグラフを書きましょう。

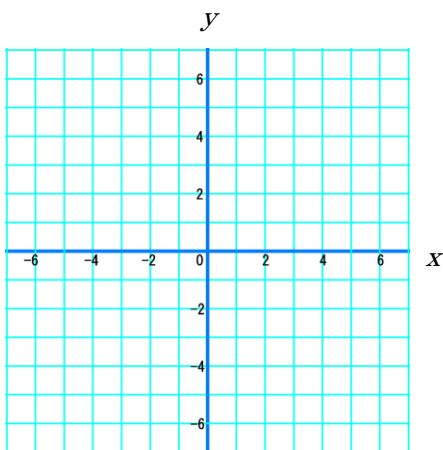
① $y = 2x - 4$



③ $y = x - 1$



② $y = -3x + 2$



④ $y = \frac{1}{5}x + 3$

