

2年数学 チャレンジプリント

12 一次関数のグラフ

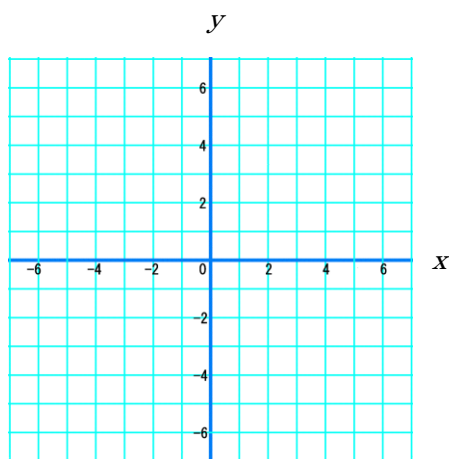
実施日 _____ 月 _____ 日

組 氏名 _____

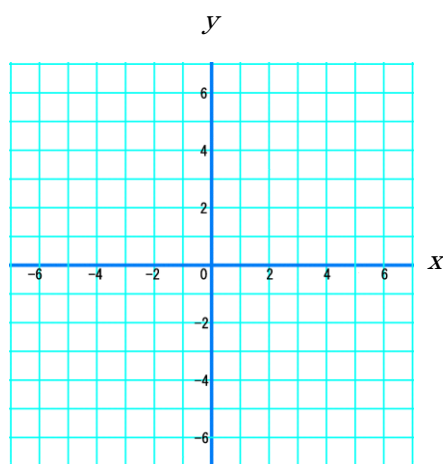
1 一次関数のグラフ

次の一次関数のグラフを書きましょう。

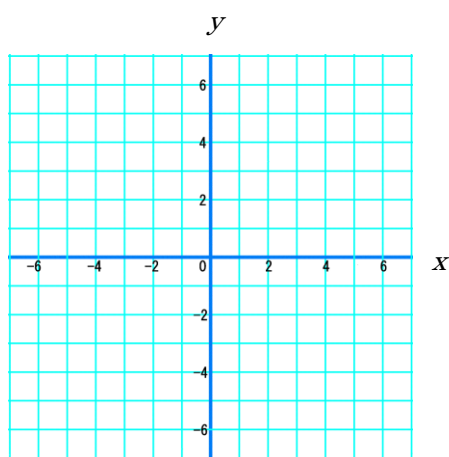
① $y = 2x + 3$



③ $y = -3x + 1$



② $y = 4x - 2$



⑤ $y = \frac{2}{3}x - 1$

